

Gk1: Matematik, tentor 17/07 Metsalo
 samt datorövning 1, to 15.2.2007 (på insidan)

Tisdagen 20.2. har vi 1:a mellanförhöret, som omfattar kap. 8-11 i Adams med undantag för kap. 9.10, uppl. 4 / kap. 9.9, uppl. 6, som behandlar Fourier-serier samt kap. 10.7, uppl. 5 & 6, som behandlar matrisräkning med Maple. I gengäld ingår kap. 17.9, uppl. 4 / kap. 17.7, uppl. 6, som behandlar lösning av ordinära differential-ekvationer uha. serier (kap. 4.10 i uppl. 5). Till mellanförhöret får vanliga funktionsräknare medtagas. Tabellsamlingar och mer avancerade räknare får inte medtagas.

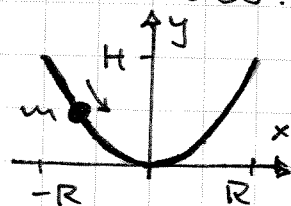
Föreläsningen ti 20.2. (strax före mellanförhöret) och mottagningarna må 19.2. och ti 20.2. är ineställda. Planera alltså studerandet (och Kärspexandet!) så att alla frågor kan ställas redan fr 16.2.

Ou: 1) 11.5.13. Uha. detta får vi metoder att göra skisser av ellipser med cubart passare och linjal.

2) 11.5.24.

3) 11.5.16. I uppl. 4 förekommer ett olyckligt tryckfel: Det skall stå
$$K(\theta) = \frac{1}{2} \frac{(f'(\theta))^2 + (f(\theta))^2 - f(\theta) \cdot f''(\theta)}{[(f'(\theta))^2 + (f(\theta))^2]^{3/2}}$$
 Obs!

4) En pärla med massan m startar från vila från punkten $(-R, H)$ och glider (inte rullar) längs en tråd böjd till parabolen $y = Hx^2/R^2$ till punkten (R, H) utan friktion under inverkan av tyngdkraften $\vec{F} = -mg\hat{j}$. Bestäm pärlans fart och centripetalacceleration i:
 a) punkten $(0, 0)$ b) punkten $(R/2, H/4)$.



Demo: Vi visar att kurvan $\vec{r}(t) = x(t)\hat{i} + y(t)\hat{j}$ har evolutan $\vec{r}_c(t) = \xi(t)\hat{i} + \eta(t)\hat{j}$, där

$$\xi(t) = x(t) - \frac{y'(t) \cdot (x'(t))^2 + (y'(t))^2}{x'(t)y''(t) - x''(t)y'(t)} \quad \text{och}$$

$$\eta(t) = y(t) + \frac{x'(t) \cdot (x'(t))^2 + (y'(t))^2}{x'(t)y''(t) - x''(t)y'(t)}$$

(förentsatt att kurvan är "tillräckligt snäll").

Fredagens tentor finns på baksidan.

Datorövning 1, 15.2.2007

- 0) Vi använder programpaketet Mathematica. Läs igenom uppg. 0 från höstens datorövning 1 samt sammanfattningen av Mathematica från höstens datorövning 2. De finns på kursens hemsida under rubriken Övningsuppgifter. Jag hade problem med användandet av \wedge (upp-höjt till) och $'$ (apostrof). Men genom att trycka två gånger fick jag upp motsvarande tecken.
- 1) Rita kurvan $(x, y) = (\frac{t}{4} \cdot (t-9)(t-24), t(t-24))$ från uppg. 3, fr v3 i.h.a. ParametricPlot.
- 2) Bestäm definitionsmängden för $r = f(u) = \arccos(1-2u) - u^2$ och därefter de t -värden, för vilka $u = g(t) = (t/\pi - 1/2)^2$ tillhör f 's def. mängd. Ladda sedan programpaketet Graphics i.h.a. kommandot `<< Graphics`Graphics`` och rita kurvan $r = f(g(t))$, där t är polära vinkeln (ofta betecknad θ) i.h.a. PolarPlot (kanske vill ni slicka kurvan till någon bekantskap från igår). Axlarna fås bort i.h.a. `Axis -> None` i inuti PolarPlot-kommandot. Beräkna även arean inmanför kurvan.
- 3) Rita kurvan, som ges i polära koordinater av $r = \cos^2 t$ (där t åter är polära vinkeln, betecknad θ i Adams) i.h.a. PolarPlot. Beräkna volymen V hos en av "bollarna" som uppstår, då kurvan roterar kring x -axeln i.h.a. Integrate och approximerare arean A hos "bollens" begränsningsyta i.h.a. NIntegrate. Använd kontrollen $A^3/V^2 \approx 36\pi$ från lemtal 4, fr v3.
- 4a) Rita Vivianis kurva från i fredags i.h.a. ParametricPlot3D samt kurvans projektioner på koordinatplanen.
b) Rita sömmen hos Svakers tennisboll från i fredags och approximerare dess längd i.h.a. NIntegrate.

5a) Rita kurvan som ges i polära koordinater av $r = 2 + \cos(3t/2)$ (där t är polära vinkeln) mha. PolarPlot.

b) Rita överhandsknopen från i fredags mha. ParametricPlot3D.

$$\begin{aligned} \text{c) } \vec{r}(t, v) &= (x(t, v), y(t, v), z(t, v)) = \\ &= ((2 + \cos(3t/2)) \cdot \cos t + \frac{1}{5} \cdot \cos t \cdot \cos v, \\ &\quad (2 + \cos(3t/2)) \cdot \sin t + \frac{1}{5} \cdot \sin t \cdot \cos v, \\ &\quad \sin(3t/2) \cdot \sqrt{21}/5 + \frac{1}{5} \cdot \sin v), t \in [0, 4\pi], v \in [0, 2\pi] \end{aligned}$$

ger en yta på parameterform, nämligen en förtjockad version av knopen i b) - delen. Rita även den mha. ParametricPlot3D.

6) Låt $a = \sqrt{5} + 1$ och $b = 2$. Skriv om ellipsen $\frac{x^2}{a^2} + \frac{y^2}{b^2} = 1$ på parameterform som i gårdagens uppg. 1 och rita den mha. ParametricPlot. Rita också dess evoluta (se gårdagens demo) och sammanför de två bilderna mha. Show. AspectRatio $\rightarrow 1$ i mitti Show-kommandot gör att figurerna täcker en kvadrat. Med våra val av a och b medför detta att vi får samma skala på axlarna. Tänk på hur den ursprungliga kurvan kan återskapas ur evolutan mha. ett snöre och en penna.

$$7) (x, y) = \left(\frac{9 - 9t^2}{2 + 6t^2} \cdot (1 - t), \frac{9 - 9t^2}{2 + 6t^2} \cdot (1 + t) \right)$$

ger Cartesii blad $x^3 + y^3 = 9xy$ på parameterform. Rita kurvan och dess evoluta och bestäm kurvans krökningsradie i origo (där vi inte kan använda implicit derivering, eftersom ingendera variabeln är en funktion av den andra i en omgivning av origo). Beräkna även arean innanför oglan hos kurvan.

8) Använd Sum och Infinity för att beräkna hur mycket David, Niklas, Petter och Qvintus dricker under sillfruktosten.

9) Rita gärna några kurvor från demo-övn. om v3.

Lämnat Mathematica mha. Exit, stäng Mathematica-fönstret mha. unscn och logga ut mha. unscn. Fredagens hejtal finns på baksidan.

Fr: 1) 11.R.7 (Review)

2) 11.R.9

3) 11.R.11 (använd formlerna från onsdagens demo)

Tillsammans med förra fredagens demo ger uppg. 3) den isokrona pendeln. För en vanligt matematisk pendel beror svängningstiden nämligen på utslagsvinkeln, även om den nästan är konstant för små svängningar.

4) Kardioïden är bekant från

demo-övn. om v3. Den ges av

$$(x, y) = (2\cos t - \cos(2t), 2\sin t - \sin(2t)).$$

Visa att kardioïdens evoluta (se

onsdagens demo) är en

kardioïd, skalad $1/3$

och vriden 180° som i

figuren till höger.

Vid den mindre kardioïden

kan vi alltså åter skapa den

större (den mindre kardioïdens

evolvent) mha. ett snöre och en penna.

Demo: Asteroïden $\vec{r}(t) =$

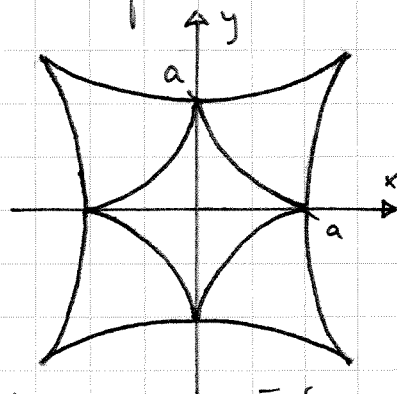
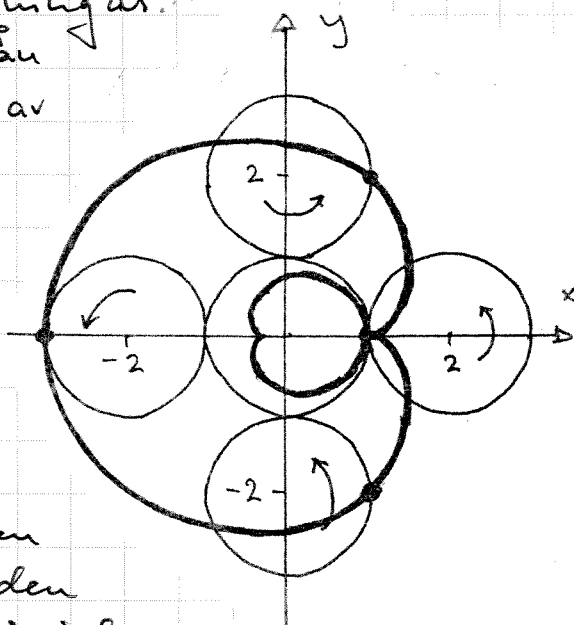
$$= (a\cos^3 t, a\sin^3 t)$$

är bekant bl.a. från busstrappstegen.

Vi visar att asteroïdens evoluta

är en annan, större asteroïd

som i figuren t.h.



Pga. de inställda motagningarna i början av nästa vecka är det lämpligt att ställa alla frågor på fredag!